

平成 28 年度
社 会
(一 般)

特進コース

注 意

- 1 問題は 1 ページから 7 ページまであり、これとは別に解答用紙が 1 枚ある。
- 2 解答は、すべて別紙解答用紙の該当欄に書き入れること。

(一) 次の1～3の問いに答えなさい。

1 次のA～Eは、古代の文化について述べたものである。これらを見て、(1)～(3)の問いに答えよ。

- A 漢字を变形してかな文字ができ、これを用いて人々の感情を書きあらわせるようになった。
 B 稲作とともに、青銅器や鉄器などの金属器も伝わった。
 C 天皇は、仏教の力によって国家を守ろうと、国ごとに国分寺と国分尼寺を建て、都には金銅の大仏をつくらせた。
 D 朝鮮半島から日本列島に移り住んだ渡来人が、かたい質の土器や高級な絹織物をつくる技術を伝えた。
 E 百済から朝廷に仏像や経典が伝えられてから、仏教をもとにした文化が栄えた。

(1) A～Eの文化の名称の組合せとして適当なものを、ア～オから一つ選び、その記号を書け。

ア{ A - 弥生文化 } イ{ B - 国風文化 } ウ{ C - 飛鳥文化 }
 エ{ D - 古墳文化 } オ{ E - 元禄文化 }

(2) A～Eを年代の古い順にならべたものとして、適当なものをア～エから一つ選び、その記号を書け。

ア{ A → C → E → B → D } イ{ A → E → D → C → B }
 ウ{ B → D → E → C → A } エ{ B → E → C → D → A }

(3) 次の①～⑥は、A～Eのどの文化のものか、適当なものをA～Eの記号で答えよ。ただし、あてはまるものがない場合はFと書け。

- ① 枕草子 ② 法隆寺 ③ 正倉院
 ④ 縄文土器 ⑤ 弥生土器 ⑥ 大仙古墳

2 14～15世紀のヨーロッパ人の世界進出について、(1)～(3)の問いに答えよ。

- (1) この頃のヨーロッパではギリシャ、ローマの優れた古代文明を学びなおす学問・芸術がさかんになった。これを何というか書け。
 (2) 当時のヨーロッパ人は、ある宗教を広め、アジアの豊かな産物を手に入れようとした。この宗教とは何か書け。
 (3) スペインは、大西洋を西回りでアジアに行く航路を開くために、ある人物を後援した。この人物は1492年にカリブ海の島に到達している。この人物は誰か書け。

3 江戸時代の三大改革のうち、天保の改革について説明しているものとして適当なものを、ア～エから一つ選び、その記号を書け。

- ア { 質素・倹約をすすめる
 上げ米の制の制定
 新田開発
 公事方御定書の整備 } イ { 外国船打払令の緩和
 きびしい倹約令
 出かせぎ農民を村に帰らせる
 江戸・大阪周辺の農地を幕府の領地にしようとした
 株仲間の解散 }

- ウ { 株仲間の奨励
 銅の専売制度の実施
 海産物の輸出の奨励
 蝦夷地の開発をこころみる } エ { 江戸にでてきている農民を故郷に帰す
 凶作やききんに備えるための倉を設ける
 商品作物の栽培を制限
 昌平坂学問所をつくる
 倹約令を出す
 旗本・御家人の借金を帳消しにする }

(二) 下の略年表を見て、1～7の問いに答えなさい。

1 略年表中①について、このとき締結された条約によって自由な貿易が始まった。条約にかかわる(1)～(3)の問いに答えよ。

(1) このとき締結された条約として適当なものを、ア～エから一つ選び、その記号を書け。

- ア 日米和親条約
- イ 日米通商航海条約
- ウ 日朝修好条規
- エ 日米修好通商条約

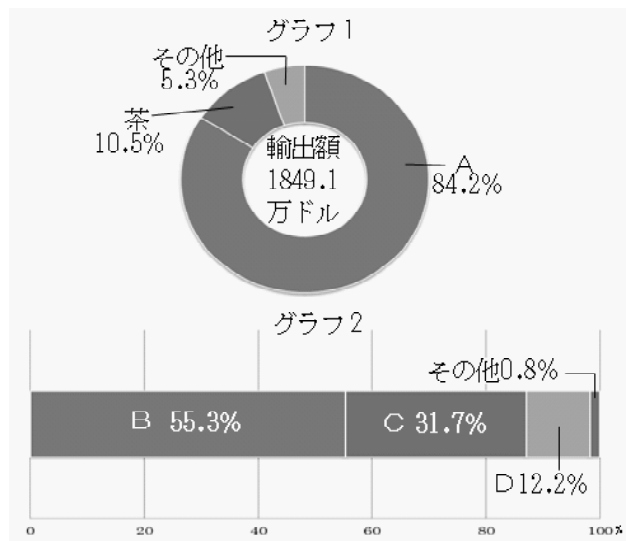
(2) グラフ1は、(1)の条約締結後に行われた幕末の貿易のうち、1865年の輸出品目の割合を表わしたものである。グラフ1の第一位の輸出品目であるAとして適当なものを、ア～エから一つ選び、その記号を書け。

- ア 毛織物
- イ 生糸
- ウ 綿織物（綿糸を含む）
- エ 武器

(3) グラフ2は、(2)などの貿易品を取り引きした1860年における貿易相手国の割合を表わしたものである。グラフ2の第一位の貿易相手国Bとして適当なものを、ア～エから一つ選び、その記号を書け。

- ア オランダ
- イ ロシア
- ウ イギリス
- エ アメリカ

西暦年	できごと
1858	①日本はアメリカと条約を締結した
1869	②土地と人民を政府に返還させた
1874	③民選議院設立の建白書が提出された
1889	④大日本帝国憲法が公布された
1894	⑤日本と清（中国）が戦争をした
1914	⑥第一次世界大戦がはじまった
1939	⑦第二次世界大戦がはじまった



2 略年表中②について、この名称として適当なものをア～エから一つ選び、その記号を書け。

- ア 版籍奉還
- イ 廃藩置県
- ウ 地租改正
- エ 大政奉還

3 略年表中③について、この行動により自由民権運動は全国的に広まっていった。説明文を参考にして自由民権運動にかかわったA・B二人に該当する人名の組み合わせとして適当なものを、ア～カから一つ選び、その記号を書け。

A 高知県で立志社をつくり、自由民権運動の中心人物として活躍し、のちに自由党を結成した。


B 立憲改進黨を結成し、のちに東京専門学校（現在の早稲田大学）を創立した。

- I 西郷隆盛
- II 大久保利通
- III 板垣退助
- IV 大隈重信

- ア { A = I, B = II }
- イ { A = II, B = III }
- ウ { A = IV, B = III }
- エ { A = III, B = IV }
- オ { A = III, B = II }
- カ { A = II, B = I }

4 略年表中④について、この憲法にともない衆議院議員の選挙権が国民に与えられた。ただ、1890年に行われた最初の衆議院議員選挙における有権者の割合は、総人口の1.1%（約45万人）に過ぎなかった。その理由を **15**， **25**， **直接国税** の三つの語句を使って解答欄に続く形で簡潔に説明せよ。

5 略年表中⑤について、下の絵はこの戦争に関係した国々をフランス人のビゴーが風刺してえがいたものである。絵に該当する国の組み合わせとして適当なものを、**ア～カ**から一つ選び、その記号を書け。



I 日本 II ロシア III 清 IV 朝鮮

ア { A=I, B=II, C=III } イ { A=I, B=II, C=IV } ウ { A=I, B=III, C=IV }
 エ { A=III, B=II, C=IV } オ { A=III, B=II, C=I } カ { A=III, B=IV, C=I }

6 略年表中⑥について、1918年、ドイツが降伏して第一次世界大戦が終わり、翌年にフランスで講和会議が開かれた。この時結ばれた講和条約の名称として適当なものを、**ア～エ**から一つ選び、その記号を書け。

ア サンフランシスコ平和条約 イ ポーツマス条約
 ウ ベルサイユ条約 エ 独ソ不可侵条約

7 略年表中⑦について、1945年、アメリカ、イギリス、フランスなどの国々は二度の世界大戦への反省から、ある機関を設置した。この機関の名称として適当なものを、**ア～エ**から一つ選び、その記号を書け。

ア ヨーロッパ共同体 イ 国際連盟 ウ ヨーロッパ連合 エ 国際連合

(三) 次の 1～3 の問いに答えなさい。

1 日本国憲法について、(1)・(2)の問いに答えよ。

(1) 憲法の改正には特別な手続きが求められ、衆議院・参議院それぞれを通過した後、国会が憲法改正案を国民に発議し、次に国民投票が行われる。憲法改正について適当なものを、ア～エから一つ選び、その記号を書け。

ア 国民投票法では、投票年齢が18歳以上とされている。

イ 国民投票で3分の2以上の賛成票が得られれば憲法は改正される。

ウ 改正された憲法は内閣総理大臣が国民を代表し公布する。

エ 衆議院・参議院を通過するためには総議員の過半数の賛成が必要である。

(2) 日本国憲法のなかで定めている社会権として間違っているものを、ア～オから一つ選び、その記号を書け。

ア 教育を受ける権利 イ 生存権 ウ 勤労の権利 エ 財産権 オ 労働基本権

2 選挙について、(1)～(3)の問いに答えよ。

(1) 平成27年6月、選挙権を満18歳に引き下げることを目的としたある法律の改正が実現した。この法律は選挙に関するきまりや罰則を細かく規定している法律である。その法律名を書け。

(2) 日本の民主政治において、選挙はいくつかの原則のもとに成り立っている。その原則として間違っているものを、ア～エから一つ選び、その記号を書け。

ア 普通選挙 イ 制限選挙 ウ 秘密選挙 エ 平等選挙

(3) 日本の選挙制度の現状として適当なものを、ア～エから一つ選び、その記号を書け。

ア 投票率の低下により開票作業が効率化し、経費削減となり喜ばれている。

イ 考えのない投票やいたずらを防ぐため、投票用紙には投票に来た人の名前・住所を記入させる。

ウ 各選挙区における議員1人あたりの有権者数が異なり、1票の重さに格差が生じている。

エ 日本の選挙においては選挙資金はかからず、全て行政が負担し、個人・企業・団体と政治家との関係性をなくすことで不正行為を防止している。

3 日本の安全保障について、(1)～(3)の問いに答えよ。

(1) 日米安全保障条約のしくみについて、下記のⅠ・Ⅱが両方とも正しい場合はA、Ⅰのみ正しい場合はB、Ⅱのみ正しい場合はC、両方とも間違っている場合はDで答えよ。

Ⅰ 日本はアメリカ軍に基地を提供し、経費を負担する。

Ⅱ アメリカ軍は日本が攻撃を受けた場合、防衛する義務がある。

(2) 自国に対する武力攻撃に対して自国を防衛することを個別的自衛権という。いっぽう他国に対する武力攻撃があったとき、自国の平和と安全がおびやかされたとみなして、その他国と共同して防衛行動をとることを何というか書け。

(3) 日本の安全保障を考えるうえで、憲法第9条との関連性が重要となる。下記の条文中の空欄に入る語句の組み合わせとして適当なものを、ア～カから一つ選び、その記号を書け。

① 日本国民は、正義と秩序を基調とする国際平和を誠実に希求し、国権の発動たる(a)と、武力による威嚇又は武力の行使は、国際紛争を解決する手段としては永久にこれを(b)する。

② 前項の目的を達するため、陸海空軍その他の戦力は、これを保持しない。国の(c)は、これを認めない。

ア { (a)戦争 (b)維持 (c)交戦権 } イ { (a)紛争 (b)放棄 (c)交戦権 }

ウ { (a)戦争 (b)維持 (c)自衛権 } エ { (a)紛争 (b)放棄 (c)自衛権 }

オ { (a)戦争 (b)放棄 (c)交戦権 } カ { (a)紛争 (b)維持 (c)自衛権 }

(四) 次の文を読んで、1～5の問いに答えなさい。

花子さんは授業で、①日本の経済の歩みについて学んだ。そして、自由研究の課題が出されたので、②金融と③物価について調べた。

1 下線部①について、文中の a～c の()の中から適当な語句をそれぞれ一つずつ選び、その記号を書け。

日本は1950年代後半から1970年代にかけて、経済活動が毎年大きくのびていく、a(ア 高度生産 イ 高度経済 ウ 高度建設 エ 高度経営)成長を経験した。産業においては軽工業から重化学工業に中心が移った。原料を輸入し、より高く売れる工業製品を作って輸出する b(ア 水平 イ 垂直 ウ 加工 エ 原料)貿易を行うようになり、輸出入も増加していった。しかし1973年以降、二度のc(ア 鉄鋼 イ 石炭 ウ 石油 エ 製品)危機にみまわれた。そこから日本経済は、エネルギー消費を節約するような製品や技術を発展させて、それ以降は安定した経済の成長が続くようになった。

2 下線部②について、日本銀行はわが国の通貨価値が安定するように、また、あらゆる取引の決済が円滑に行われるようにするために、経済全体に流通するお金(通貨)の総額を管理する責任を負っている。この制度を何というか書け。

3 下線部②について、日本から輸出する商品の代金を、相手国の通貨で受け取る場合は日本の通貨(円)に交換する。この異なる通貨を交換するときの比率の名称として適当なものを、ア～エから一つ選び、その記号を書け。

ア 貿易相場 イ 為替相場 ウ 株式相場 エ 金利相場

4 下線部②について、(a)～(d)に当てはまる語句の組み合わせとして適当なものを、ア～エから一つ選び、その記号を書け。

1ドル=100円が、1ドル=80円になった場合を(a)といい(b)が有利となり、1ドル100円が、1ドル120円になった場合を(c)といい(d)が有利となる。

ア { (a) 円安 (b) 輸入 (c) 円高 (d) 輸出 }
イ { (a) 円高 (b) 輸出 (c) 円安 (d) 輸入 }
ウ { (a) 円安 (b) 輸出 (c) 円高 (d) 輸入 }
エ { (a) 円高 (b) 輸入 (c) 円安 (d) 輸出 }

5 下線部③について、(1)・(2)の問いに答えよ。

- (1) 物価が持続的に上昇することを何というか書け。
- (2) 物価が持続的に下落することを何というか書け。

(五) 次の1～4の問いに答えなさい。

1 日本の領域に関して、(1)～(3)の問いに答えよ。

(1) 文中の(a)～(c)に適切な語句・数字を書け。

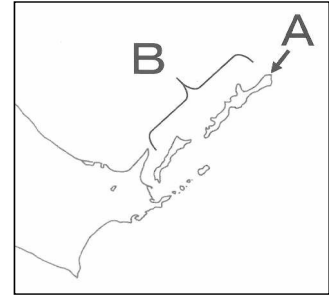
領域は領土，(a)，領空からなり，日本では(a)を領土沿岸から(b)海里以内としている。また，その外側には水産資源，鉱産資源について，沿岸国が管理することができる(c)があります。

(2) 右の図中Aは，日本最北端の島である。Aの名称として適当なものを，ア～エから一つ選び，その記号を書け。

ア 与那国島 イ 沖ノ鳥島 ウ 択捉島 エ 竹島

(3) 右の図中Bは，日本がある国と領有を主張し合っている地域である。この地域の名称と相手国の組み合わせとして適当なものを，表中のア～エから一つ選び，その記号を書け。


	ア	イ	ウ	エ
地域の名称	北方領土	北方領土	尖閣諸島	尖閣諸島
国名	中国	ロシア	中国	ロシア



2 次のア～エの写真について，①・②の説明文に該当するものをそれぞれ一つずつ選び，その記号を書け。

① 三陸地方や志摩半島に見られる，海岸線が複雑なりアス海岸である。

② 川が運んできた細かい土砂で埋め立てられた三角州である。



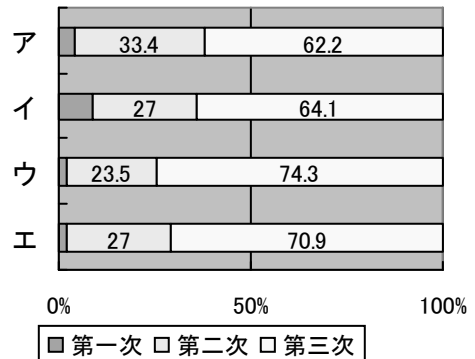
3 瀬戸内地方の気候の特徴について，右の図を参考にしながら， に適当な言葉を入れ，文を完成させよ。

ただし，**降水量**という語句を必ず使わないさい。



瀬戸内地方は中国山地と ことが特徴です。

4 右のア～エのグラフは，近畿地方・中部地方・関東地方・東北地方の産業別就業人口割合を表したものである。また，以下の説明文は上記のいずれかの地方の産業について述べたものである。説明文に該当する地方名として適当なものを選び，その語句を書け。また，その地方に該当するグラフとして適当なものを，ア～エから一つ選び，その記号を書け。




この地方は中京工業地帯や東海工業地帯などが広がり，自動車をはじめとする輸送用機械，金属，化学など多くの工業が発達しているため，他地域よりも第二次産業の割合が大きいのが特徴である。

(六) 次の1～3の問いに答えなさい。

1 オセアニア州に関して、(1)～(4)の問いに答えよ。

(1) 次の説明文は、右の二つの国旗の共通点について述べたものである。文中の①から適当な国名を一つ選び、その語句を書け。また、②に当てはまる語句を書け。



オーストラリア ニューゼaland

 どちらの国旗にもあしらわれているユニオンジャックのデザインは①(フランス、イギリス、イタリア、オランダ)連邦の一員であることを、南十字星は(②)半球の国であることの誇りを意味しています。

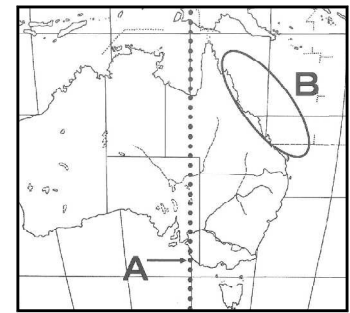
(2) 図中のAは東経140度の経線である。Aをまっすぐ北に上がっていくと通過する国として適当なものを、ア～エから一つ選び、その記号を書け。

ア 日本 イ インド ウ アメリカ合衆国 エ ブラジル

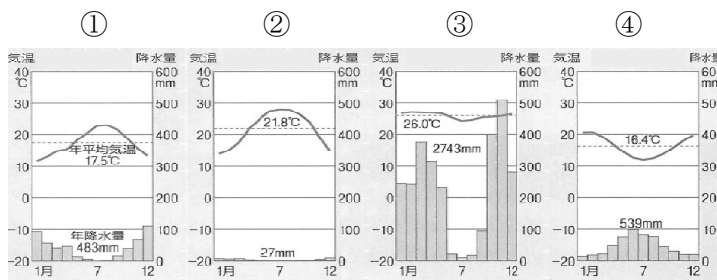
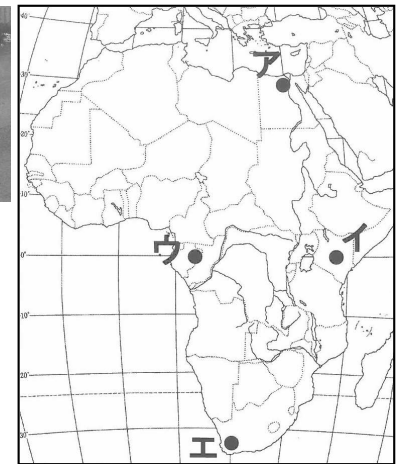

(3) 図中のBには2000km以上続く世界最大のさんごしょうが形成されている。このさんごしょう地帯の名称を書け。

(4) オーストラリアの先住民の名称として適当なものを、ア～エから一つ選び、その記号を書け。

ア マオリ イ ゲルマン ウ アボリジニ エ イヌイット



2 右の写真は地図中のどこで撮られたものであるか。適当な場所を、ア～エから一つ選び、その記号を書け。また、この写真の地域と同じ気候区の気温と降水量を表したグラフとして適当なものを、①～④から一つ選び、その記号を書け。



3 ヨーロッパ州に関して、(1)～(3)の問いに答えよ。

(1) ヨーロッパ州は全体的に日本より高緯度に位置するが、気候は比較的温暖である。その理由を述べた以下の説明文のうち内容が適当なものを、ア～エから一つ選び、その記号を書け。

- ア リマン海流と貿易風が寒さをやわらげているため。
- イ リマン海流と偏西風が寒さをやわらげているため。
- ウ 北大西洋海流と貿易風が寒さをやわらげているため。
- エ 北大西洋海流と偏西風が寒さをやわらげているため。

(2) 現在ヨーロッパの28か国によって、経済的・政治的統合を目指して結成されている国際機構の名称と、そこで導入されている共通通貨の名称の組み合わせとして適当なものを、ア～カから一つ選び、その記号を書け。

	ア	イ	ウ	エ	オ	カ
国際機構	EC	EC	EC	EU	EU	EU
共通通貨	ポンド	ユーロ	フラン	ポンド	ユーロ	フラン

(3) 次の文中の(①)・(②)に入る語句を、下の語群から一つずつ選び、その語句を書け。

 ヨーロッパ北西部では、穀物栽培と豚を中心とした家畜の飼育を組み合わせた(①)が中心である。さらに冷涼な北部やアルプス地方では(②)が中心である。

地中海性気候	混合農業	酪農	焼畑	プランテーション
--------	------	----	----	----------