


令和 6 年度
社 会
(一 般)

著作権者への配慮から、何の資料か説明を加えた上で網掛け  をしている箇所があります。
予めご了承ください。

注 意

- 1 問題は 1 ページから 1 2 ページまであり、これとは別に解答用紙が 1 枚ある。
- 2 解答は、すべて別紙解答用紙の該当欄に書き入れること。

(一) AさんとBさんの会話文を読み、次の1～9の問いに答えなさい。

Aさん：授業で、江戸時代までの歴史を習ったね。来週からは明治時代以降の歴史を習うから、今までの復習をしていこう。

Bさん：せっかくだからテーマを絞って歴史の流れを意識しながらやっていこうよ。

Aさん：それなら、「日本と周辺諸国」はどうだろう。

Bさん：いいね。まずは古代を復習しよう。当時の日本のことが記された最も古い書物は中国の歴史書だね。

Aさん：紀元前1世紀頃、日本は100余りの国があり、漢の皇帝に使いを送る国もあったそうだね。3世紀になると漢が滅びて魏・蜀・呉の三国に分かれて争っていて、①この頃の日本には女王が支配している国があったと習ったよ。

Bさん：3世紀後半に大和政権が現れてからは、②大陸とも交流するようになったよね。渡来人は須恵器を作る技術や漢字などを教えてくれたね。

Aさん：聖徳太子は隋の進んだ制度や文化を取り入れようと、遣隋使を派遣していたみたい。

Bさん：中大兄皇子らが活躍していた頃は、遣唐使が送られていたけど、常に関係が良好であったわけではなく、百済を助けようとして③唐や新羅の連合軍と交戦したこともある。

Aさん：東大寺の正倉院宝物庫の中には、遣唐使が持ち帰ったとみられるものが多くあって、そこからは西アジアやインドから影響を受けていたことが分かったね。

Bさん：長く続いた④遣唐使の派遣は、平安時代になると途絶えてしまう。原因として唐での国内反乱が続いていたことによる唐のおとろえと往復の危険があったみたい。

Aさん：正式な国交は途絶えたけれど、僧の留学や商人間での貿易は行われていて、平清盛は日宋貿易の利益に着目して港を整備していたらしいね。

Bさん：次に周辺諸国の存在が現れるのは鎌倉時代で、⑤モンゴル帝国とユーラシア世界について勉強したはず。

Aさん：そのモンゴル帝国も14世紀になると、漢民族が建国した明によって北に退けられる。同じ頃に集団で船を襲い、品物を奪う倭寇という存在が現れた。足利義満は、明の求めに応じて倭寇を禁じる一方で、日明貿易を始めたよ。この頃の日本は、⑥明のみならず、他の地域ともつながっていたんだ。

Bさん：アジアとの交流が主だった日本がヨーロッパと交流を持つようになったきっかけには、⑦宗教改革や大航海時代が関係していると思う。鉄砲やキリスト教の伝来は日本に大きな変化を加えていくね。

Aさん：最初は受け入れられていたキリスト教は、⑧豊臣秀吉によって次第に警戒されるようになる。しかし、秀吉は海外との貿易に強い関心を持ち、積極的に行動するようになるね。

Bさん：秀吉の死後に政治的な力をのばした徳川家康は⑨江戸幕府を開いた。家康は貿易に積極的で、貿易の利益を重視してキリスト教を黙認していたけれど、徳川家光の時代になると禁教・貿易統制・外交独占を政策とする鎖国体制をとるようになるよ。

Aさん：その鎖国もペリーが来航したことがきっかけで崩れていくね。開国した日本が、次第に変わっていく様子を次の授業で勉強できるから楽しみだよ。

1 下線部①について、女王によって支配されていた国の名称を書け。

2 下線部②について、大和政権と大陸との交流を説明した次の文中（ A ）・（ B ）に当てはまる語句を書け。

大和政権は、朝鮮半島南部の（ A ）地域の国々や百済と交流が深く、王たちは、たびたび（ B ）の南朝に朝貢し、国内での地位をより確かなものにするとともに、朝鮮半島の国々に対して有利な立場に立とうとした。


3 下線部③について、この戦いの名称を書け。

- 4 下線部④について、次の文中(A)・(B)に当てはまる語句の組み合わせとして適当なものを、ア～エから一つ選び、その記号を書け。

(A)は学問に優れ、出世して右大臣になったが、大宰府へと追放された。死後、朝廷は崇りをおそれて、(A)を神として(B)にまつり、後には学問の神様とされた。

- (A) a 藤原頼通 b 菅原道真
 (B) c 北野天満宮 d 平等院鳳凰堂
 ア a , c イ a , d ウ b , c エ b , d

- 5 下線部⑤について、次の図A・Bについて書かれた文I・IIを読み、正誤の組み合わせとして適当なものを、ア～エから一つ選び、その記号を書け。



- I モンゴルを中心とした軍は、集団戦法で戦う一方で、日本は一騎打ち戦法で戦っている。
 II モンゴルを中心とした軍は、弓矢のみで戦っているが、日本は弓矢や刀、火薬を使った武器を用いた。
 ア I＝正, II＝正 イ I＝正, II＝誤 ウ I＝誤, II＝正 エ I＝誤, II＝誤

- 6 下線部⑥について、中山の王となった尚氏が、山北(北山)・山南(南山)の勢力を滅ぼして沖縄島を統一し建国した国名を書け。

- 7 下線部⑦について、宗教改革を説明した文章中a・bの中から適当なものを一つずつ選び、その記号を書け。

16世紀にローマ教皇が、大聖堂建築のための資金を集めようとして免罪符を売り出すと、これを批判してドイツのa { ア ルター イ カルバン } が宗教改革を始めた。彼は、教会の指導に従うのではなく、聖書を自分で読んで理解することに信仰の中心を置いた。中世のカトリック教会には務めを果たさない聖職者もいたため、この教えを受け入れた人たちはb { ウ イエズス会 エ プロテスタント } と呼ばれるようになった。

- 8 下線部⑧について、豊臣秀吉が行ったこととして適当でないものを、ア～エから一つ選び、その記号を書け。

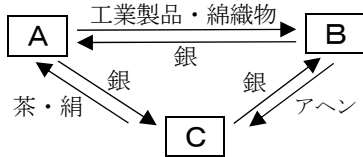
- ア 田畑の面積や土地のよしあしを調べ、予想される収穫量を、石高で表した。
 イ 一揆を防ぐため、百姓や寺社から刀・弓・やり・鉄砲などの武器を取り上げた。
 ウ 明の征服を目指し、約15万人の大軍を朝鮮に派遣した。
 エ 城を安土に築き、市での税を免除し、特権的な座を廃止する楽市・楽座を行った。

- 9 下線部⑨について、江戸時代に起こった次のできごとア～エを、年代の古い順に左から並べ、その記号を書け。

- ア 大塩平八郎は、奉行所の対応に不満を持ち、弟子などとともに大商人をおそった。
 イ 田沼意次は、商人に株仲間を作ることをすすめる経済政策を採った。
 ウ 徳川吉宗は、裁判の基準となる法律を定め、民衆の意見を聞く目安箱を設置した。
 エ キリスト教信者や領主の圧政に苦しんだ島原の人々は、天草四郎を大将にして一揆を起こした。

(二) 略年表を見て、次の1～8の問いに答えなさい。

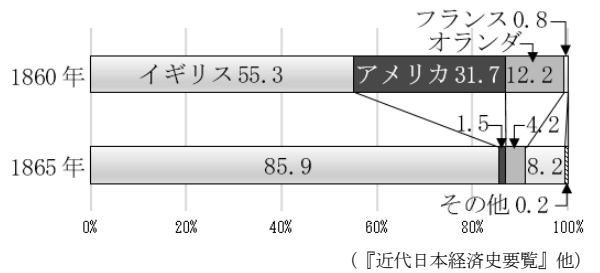
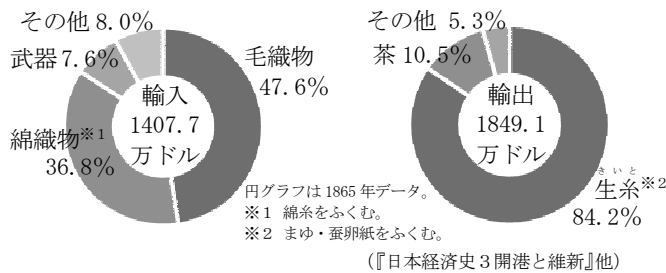
1 略年表中①の背景として、以下のような19世紀前半の貿易関係があった。関係国となる図中[A]～[C]のうち[C]の国名と、この貿易関係の名称の組み合わせとして適当なものを、ア～エから一つ選び、その記号を書け。



- ア { 明 — 中継貿易 }
- イ { 清 — 三角貿易 }
- ウ { 清 — 中継貿易 }
- エ { 明 — 三角貿易 }

西暦年	世界や日本のできごと
1840	①アヘン戦争が起きた
1858	②日米修好通商条約が締結された
1868	③が発表された
1874	④自由民権運動が開始された
1917	⑤ロシア革命が起きた
1928	⑥日本での有権者数が約4倍に増加した
1929	ニューヨーク株式市場で⑦株価が暴落した
1945	GHQによる占領政策が開始された
1947	日本で⑧男女共学が定められた

2 略年表中②によって、当時の日本と諸外国との間で貿易が行われた。貿易状況を表すグラフを正しく説明した文の組み合わせとして適当なものを、ア～エから一つ選び、その記号を書け。



- a 8割以上ではないものの、生糸が主要な輸出品であったことが分かる。
- b 約5割を占める毛織物が、主な輸入品であったことが分かる。
- c 貿易開始5年後には、アメリカが貿易相手国の中心であったことが分かる。
- d 貿易開始当初から、イギリス中心の貿易であったことが分かる。

ア a , c イ a , d ウ b , c エ b , d

3 略年表中③には、以下の史料(一部)のものが入る。史料の名称と史料を説明した文の組み合わせとして適当なものを、ア～クから一つ選び、その記号を書け。

一 広く会議ヲ興シ万機 ^{おこ} ニ決ス ^{ばんき} ※1	公論 ^{こうろん} ※2ニ決スベシ	※1 全ての政務	※2 人々で話し合うこと。
一 旧来ノ陋習 ^{ろうじゆう} ※3ヲ破リ、天地ノ公道 ^{てんちのこうどう} ※4ニ基クベシ		※3 古い習慣。攘夷の風潮のこと。	※4 国際法のこと。

名称：I 五榜の掲示 II 王政復古の大号令 III 五箇条の御誓文 IV 大政奉還の上奏

- 説明：a 攘夷の風潮などを継続し、国際法を無視することが示されている。
 b 広く会議を開いて、全ての政治を人々の話し合いによって決めることが示されている。

ア I , a イ I , b ウ II , a エ II , b
 オ III , a カ III , b キ IV , a ク IV , b

4 略年表中④について、板垣退助らが当時の政治を専制政治であると非難し、議会の開設を主張したものととして適当なものを、ア～エから一つ選び、その記号を書け。

- ア 民族自決の原則 イ 二十一か条の要求
ウ 民撰議院設立の建白書 エ 国会開設の勅諭

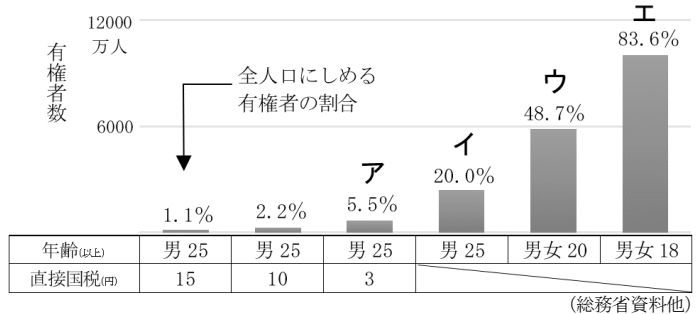
5 略年表中⑤について、ロシア革命が起きたことにもない、以下のような歴史的な流れとなる。(I)・(II)に当てはまる語句の組み合わせとして適当なものを、ア～エから一つ選び、その記号を書け。

ロシア革命 → (I) → (II) → 寺内正毅内閣は軍隊を出動させて (II) を鎮圧

- a 朝鮮出兵 b シベリア出兵 c 打ちこわし d 米騒動

- ア I = a, II = c イ I = a, II = d ウ I = b, II = c エ I = b, II = d

6 略年表中⑥について、右のグラフは、有権者の割合を、グラフ下の表は、グラフ上のそれぞれのデータと関連する選挙権の条件等を示している。これらを見て、(1)・(2)の問いに答えよ。



(1) 右のグラフにおいて、直前のデータより約4倍の有権者の割合になった箇所として最も適当なものを、ア～エから一つ選び、その記号を書け。

(2) グラフ下の表も参考にして、約4倍の有権者の割合になった要因として最も適当なものを、オ～クから一つ選び、その記号を書け。

- オ 治安維持法の制定 カ 選挙権年齢の満18歳以上への引き下げ
キ 普通選挙法の制定 ク 男女雇用機会均等法の制定

7 略年表中⑦について、写真の中の英文や当時の世界経済の様子を説明した文 I・IIを読み、正誤の組み合わせとして適当なものを、ア～エから一つ選び、その記号を書け。

- I 世界中に広がった恐慌の影響で、3か国語も話すことのできる人ですらも、たった一つの職を得ることが難しいことを表している。
II 最大の失業者を出したアメリカは、マニユファクチュアという政策を始め、公共事業を縮小し自由貿易の姿勢を強めた。

I KNOW 3 TRADES*1
I SPEAK 3 LANGUAGES
FOUGHT*2 FOR 3 YEARS
HAVE 3 CHILDREN
AND NO WORK FOR
3 MONTHS
BUT I ONLY WANT
ONE JOB

※1 TRADE(S)…取引の意
※2 FOUGHT…従軍の意

ロンドン(イギリス)の街頭で職を求める人の写真

(ロンドンの街頭で看板を背負い自己宣伝をしている失業者)

- ア I = 正, II = 正 イ I = 正, II = 誤 ウ I = 誤, II = 正 エ I = 誤, II = 誤

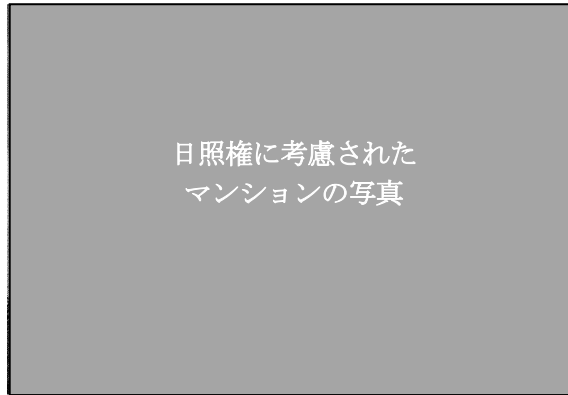
8 略年表中⑧について、日本の民主化にむけて男女共学や教育の機会均等、義務教育などを定めた法律の名称として適当なものを、ア～エから一つ選び、その記号を書け。

- ア 教育勅語 イ 国家総動員法 ウ 教育基本法 エ 学制

(三) 次の 1・2 の問いに答えなさい。

1 基本的人権について(1)・(2)の問いに答えよ。

(1) 下の写真は、新しい人権とされるある権利に配慮されたマンションである。この権利として適当なものを、ア～エから一つ選び、その記号を書け。

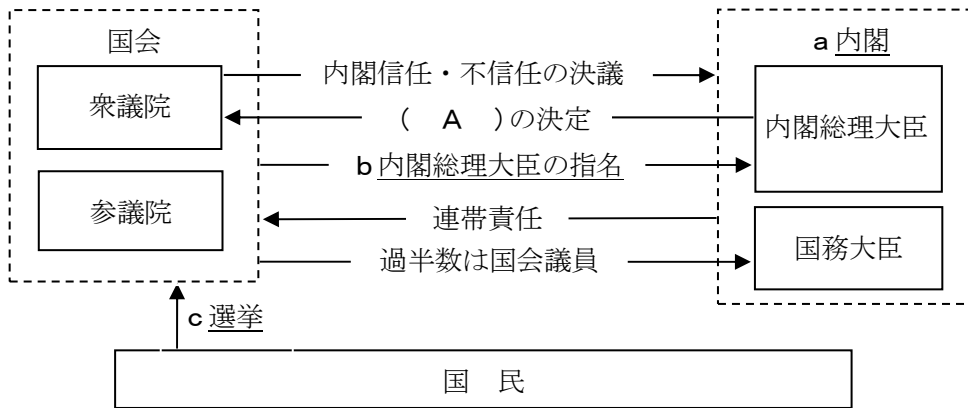


ア 請願権 イ 生存権 ウ 日照権 エ 自己決定権

(2) 次の日本国憲法条文中（ X ）に当てはまる語句を書け。

この憲法が国民に保障する自由及び権利は、国民の不断の努力によつて、これを保持しなければならない。又、国民は、これを濫用してはならないのであつて、常に（ X ）のためにこれを利用する責任を負ふ。

2 議院内閣制のしくみを表した下の図を見て、(1)～(6)の問いに答えよ。



(1) 下線部 a について、内閣の仕事ではないものを、ア～エから一つ選び、その記号を書け。

ア 天皇の国事行為に対する助言と承認 イ 法律の執行
ウ 政令の制定 エ 国政調査権の行使

- (2) 内閣不信任案が可決された場合について説明した、次の文中と図中(A)に共通して当てはまる語句を書け。

内閣不信任の決議が可決された場合は、内閣は10日以内に(A)を行うか、総辞職しなければならない。

- (3) 下線部 b について説明した次の文中 B・C の中から適当なものを一つずつ選び、その記号を書け。

衆議院と参議院が異なる人を指名した場合、B { ア 両院協議会 イ 参議院の緊急集会 } が開かれ、それでも意見が一致しない場合はC { ウ 衆議院 エ 参議院 } の議決が優先される。

- (4) 下線部 c について、下の表のように議員が選出される選挙制度を何というか書け。

政党名	名簿の順位		得票数
	1位	2位	
りんご党	(当) Aさん	(当) Dさん	150
みかん党	(当) Bさん	Cさん	90
いちご党	Eさん		50
れもん党	Fさん		40

- (5) 下線部 c について、近年では国民が政治参加をする上で求められる、情報を正しく活用する能力のうち、マスメディアの情報を批判的に読み取る力を何というか、書け。

- (6) 憲法改正の手続きについて述べた次の文中 D・E の中から適当なものを一つずつ選び、その記号を書け。

国会は、衆議院と参議院それぞれのD { ア 出席議員 イ 総議員 } の、E { ウ 過半数 エ 3分の2以上 } の賛成によって、憲法改正の発議をすることができる。

(四) 次の1～4の問いに答えなさい。

1 消費生活と流通について、(1)～(3)の問いに答えよ。

(1) 家計は、お金が入ってくる収入と、それを使う支出とで成り立つ。収入の種類はさまざまである。お店の経営などで得る収入の名称として適当なものを、ア～エから一つ選び、その記号を書け。

ア 給与収入 イ 事業収入 ウ 財産収入 エ 不動産収入

(2) 流通の合理化の内容として適当でないものを、ア～エから一つ選び、その記号を書け。

- ア 生産者が消費者と直接契約し商品を販売する。
- イ 物流センターが生産者から一括仕入れを行い、各チェーン店へ提供する。
- ウ 複数の卸売業者が、複数の生産者から仕入れ、複数の小売業者へ製品を提供する。
- エ 大規模小売業者が、複数の生産者から直接仕入れ、消費者へ提供する。

(3) 商品販売時、バーコードを読み取ることで、商品の販売動向の情報が記録・分析され、商品の在庫を管理するシステムがある。商品の製造や流通を効率的に行うこのシステムの名称として適当なものを、ア～エから一つ選び、その記号を書け。

ア BOSシステム イ GISシステム ウ EPAシステム エ POSシステム

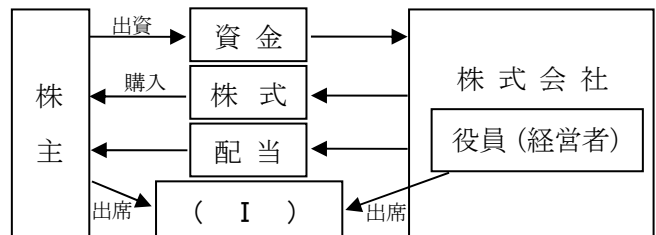
2 生産と労働について、(1)～(3)の問いに答えよ。

(1) 次の文章の空欄(Ⅰ)・(Ⅱ)に当てはまる語句として適当なものを、ア～エから一つずつ選び、その記号を書け。

企業の生産活動は、(Ⅰ)という3つの生産要素を組み合わせで行われる。資本がお金(資本金)から3つの生産要素、そして商品へと形を変えながら、企業の目的である(Ⅱ)を生みだし、たくわえられる経済の仕組みを、資本主義経済と呼ぶ。

ア 土地・気候・労働力 イ 土地・設備・労働力 ウ 利潤 エ 雇用

(2) 右の図中(Ⅰ)は、株式会社の経営方針の決定などを行う最高意思決定機関である。株主は議決に参加する権利や配当を受ける権利が保証される。(Ⅰ)に当てはまる語句を書け。



(3) A株式会社の株価の変動について、次の【条件】のとき、空欄(Ⅰ)・(Ⅱ)に当てはまる語句として適当なものを、ア～エから一つずつ選び、その記号を書け。

- 【条件】
- ・ A株式会社がヒットが期待できる新商品の開発および発売したとき。
 - ・ 類似品がなく、皆が求めていたものを発売したとき。
 - ・ 開発間もないが、すでに売れ行き好調な商品があるとき。

A株式会社の新商品大ヒットにより、利益が上がる見通しになり、(Ⅰ)する人が増え、株価が(Ⅱ)。

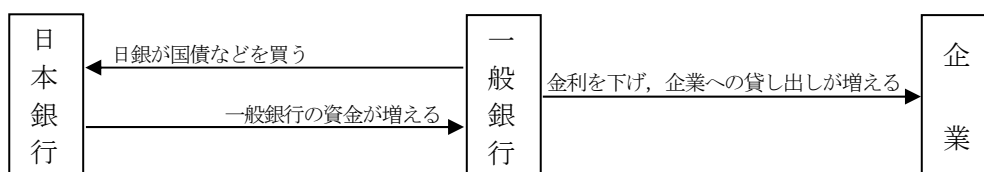
ア 株式を購入 イ 株式を売却 ウ 上昇する エ 下落する

3 市場経済と金融について、(1)・(2)の問いに答えよ。

(1) みかん農家のAさんは、今年の夏の台風による被害もあって十分な収穫量が確保できないと考えており、「この状況は、全国的にも言えることで多くの消費者がみかんを求める冬には、その販売価格に影響が出てくる」と言っている。みかん農家Aさんは、冬にはどのようなみかん市場になっていると考えているか。需要と供給を使って説明した文として適当なものを、ア～エから一つ選び、その記号を書け。

- ア 需要量よりも供給量が多く、みかんの価格は例年よりも高くなる。
- イ 需要量よりも供給量が多く、みかんの価格は例年よりも安くなる。
- ウ 需要量よりも供給量が少なく、みかんの価格は例年よりも高くなる。
- エ 需要量よりも供給量が少なく、みかんの価格は例年よりも安くなる。

(2) 日本銀行の金融政策について、次の図の政策を実施したときに期待される結果として適当なものを、ア～エから一つ選び、その記号を書け。



- ア この政策は好景気時の内容であり、景気がおさえられる。
- イ この政策は好景気時の内容であり、景気が回復する。
- ウ この政策は不景気時の内容であり、景気がおさえられる。
- エ この政策は不景気時の内容であり、景気が回復する。

4 財政と国民の福祉について、(1)・(2)の問いに答えよ。

(1) 税金についての説明として適当なものを、ア～エから一つ選び、その記号を書け。

- ア 間接税は、担税者である消費者が、生産者や販売者などを仲介して納めるが、納税者と担税者は同一である。
- イ 税金には、国に納める国税と地方公共団体に納める地方税とに分かれるが、自動車税は国税に分類される。
- ウ 直接税と間接税の比率である直間比率は、日本やアメリカは間接税の方が割合は大きい。
- エ 所得税や相続税などの直接税では、所得の高い人ほど、所得や財産などに対する税率を高くする累進課税の方法が採られている。

(2) 日本の社会保障制度の一つである公的扶助の説明として適当なものを、ア～エから一つ選び、その記号を書け。

- ア 最低限の生活ができない人々に対して、生活保護法にもとづいて生活費や教育費などを支給する。
- イ けがや病気、失業などで働けなくなり、収入がなくなることへの備えである。
- ウ 高齢者や障がいのある人々、子どもなど、社会の中で弱い立場になりやすい人々を支援する。
- エ 生活環境の改善や感染症の予防などで、人々の健康や安全な生活を守る役割を果たしている。

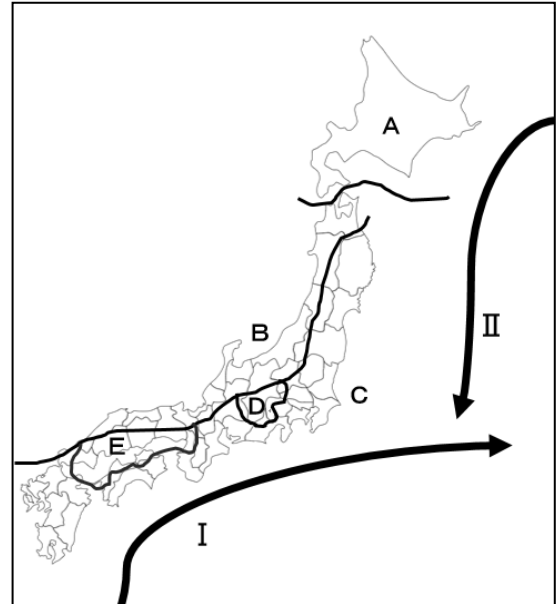
(五) 次の1～5の問いに答えなさい。

1 右の図は、日本の気候区分と海流の流れを表したものである。これを見て、(1)・(2)の問いに答えよ。

(1) 次の①・②は、図中A～Eのうち2つの地域について説明したものである。それぞれに該当する地域として適当なものを、A～Eから一つずつ選び、その記号を書け。

① 南北を山地にはさまれ、それぞれからの水蒸気が届きにくいいため、年間の降水量が少ない。

② 標高が高い山に囲まれているため、他地域に比べると年間を通して気温が低い。



(2) 図中I・IIの海流の名称の組み合わせとして適当なものを、ア～カから一つ選び、その記号を書け。

	ア	イ	ウ	エ	オ	カ
I	日本海流	日本海流	対馬海流	対馬海流	千島海流	千島海流
II	リマン海流	千島海流	日本海流	千島海流	日本海流	リマン海流

2 下の表は、自然現象とそれによって引き起こされる災害についてまとめたものである。その組み合わせとして適当でないものを、ア～エから一つ選び、その記号を書け。

	ア	イ	ウ	エ
自然現象	地震	地震	火山噴火	火山噴火
災害	高潮	液状化現象	火砕流の発生	火山灰の流出

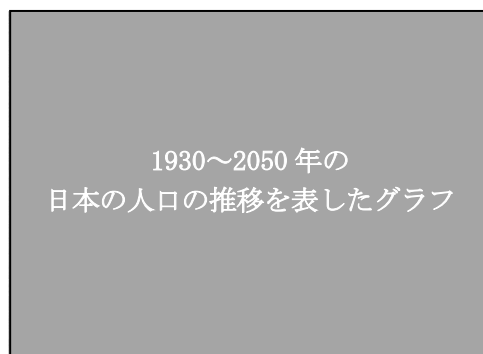
3 下のグラフIは、ある時期における日本の人口ピラミッドである。この人口ピラミッドの時期として適当なものを、グラフII中a～dから一つ選び、その記号を書け。

グラフ I



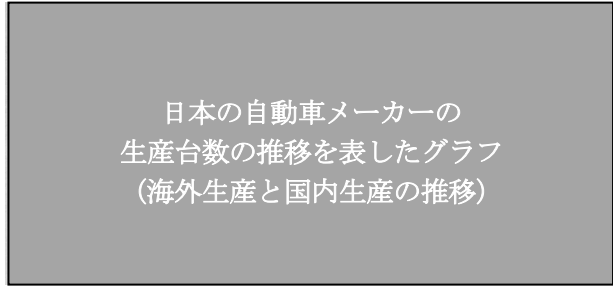
(総務省資料)

グラフ II



日本の人口の移り変わり (「国勢調査報告」平成27年他)

4 右のグラフは、日本の自動車メーカーの生産台数の推移を表したものである。このグラフから考えられる、日本の産業の問題点として適当なものを、ア～エから一つ選び、その記号を書け。



(「世界自動車統計年報」2014年他)

- ア 加工貿易にたより過ぎている。
- イ 第三次産業の割合が小さくなっている。
- ウ 産業の空洞化が進行している。
- エ 工業生産における技術力が低下している。

5 次のA～Cは、日本各地方の農業について説明したものである。これらを見て、(1)～(3)の問いに答えよ。

- A 農家一戸あたりの耕地面積が、全国平均と比べて広大である。十勝平野は日本有数の畑作地域である。また、乳牛の飼育を行い乳製品を生産する農業である (①) も盛んである。
- B 米の生産量の地方割合では約3割を占めており、日本で最も多い。また、りんごやさくらんぼの生産量が日本一の都道府県があるなど、果実栽培も盛んである。
- C 大消費地に近い畑作地域では、都市部に野菜を出荷する (②) 農業が盛んである。また、郊外やその周辺地域にも畑作や畜産の盛んな地域は拡大している。

(1) (①)・(②)に当てはまる語句を書け。

(2) B中の下線部について、さくらんぼの生産量の割合を表したグラフとして適当なものを、ア～エから一つ選び、その記号を書け。

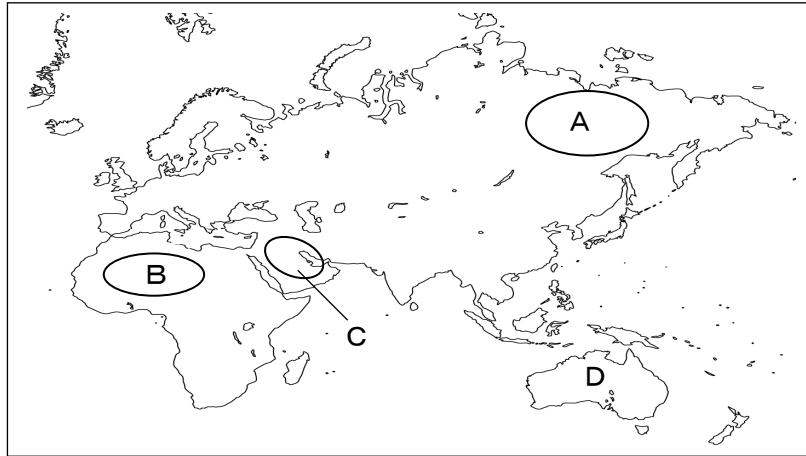
ア	57.9% 青森	19.4 長野	6.2 山形	6.0 岩手	3.2 福島	7.3 その他
イ	23.7% 山梨	16.1 長野	10.4 山形	8.3 岡山	4.5 福岡	37.0 その他
ウ	72.9% 山形			10.8 北海道		16.3 その他
エ	27.7% 宮崎	12.7 福島	12.5 高知	10.9 愛媛	9.5 北海道	26.7 その他

(「果樹生産出荷統計」平成27年産他)

(3) C中の下線部について、こうしたことがみられるようになった理由を、簡潔に説明せよ。

(六) 次の1～4の問いに答えなさい。

1 下の地図を見て、(1)～(4)の問いに答えよ。

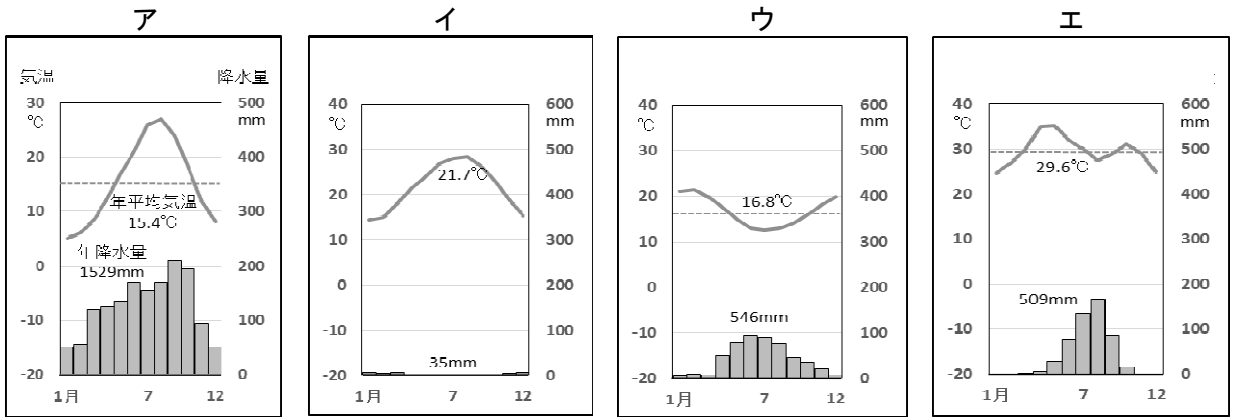


(1) 地図中Aのなかでも、シベリアの特に寒い地域では、右の写真のような()に熱が伝わらないようにするための高床の建物がみられる。

()に当てはまる語句を漢字4字で答え、文を完成させよ。

ロシアで高床になっている集合住宅の写真

(2) 地図中Bには、サハラ砂漠が広がっている。その中でも南部では樹木や草が少しだけ育ち、人々が暮らしている。その地域の名称を何というか書け。また、その地域における雨温図として適当なものを、ア～エから一つ選び、その記号を書け。



(「理科年表」平成30年)

(3) 地図中Cについて説明した文Ⅰ～Ⅲを読み、正誤の組み合わせとして適当なものを、ア～クから一つ選び、その記号を書け。

Ⅰ キリスト教が広く信仰され、経典の「聖書」に従って生活している。

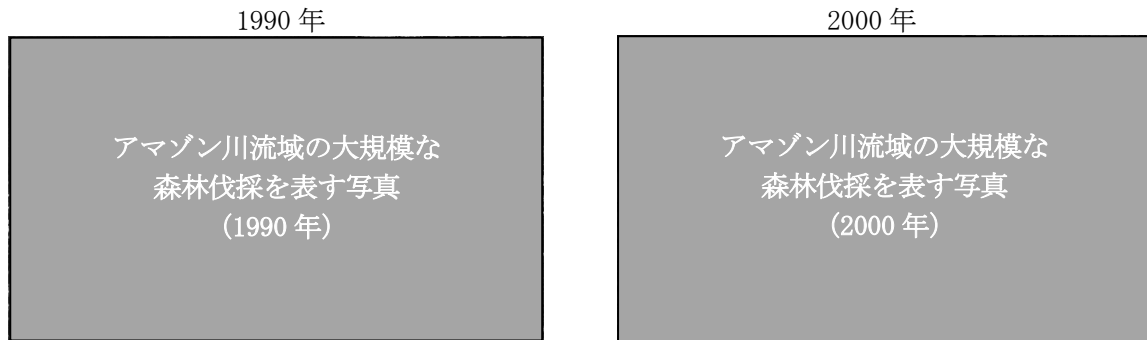
Ⅱ 産油国によって形成されるAPECを通して、産油国の利益を守っている。

Ⅲ 西アジアでは、鉱山資源には限りがあるため、再生可能エネルギーやAIなどの先端技術を活用し、石油にたよらない都市づくりを目指している国もある。

ア Ⅰ＝正、Ⅱ＝正、Ⅲ＝正 イ Ⅰ＝正、Ⅱ＝正、Ⅲ＝誤 ウ Ⅰ＝正、Ⅱ＝誤、Ⅲ＝正
 エ Ⅰ＝正、Ⅱ＝誤、Ⅲ＝誤 オ Ⅰ＝誤、Ⅱ＝誤、Ⅲ＝正 カ Ⅰ＝誤、Ⅱ＝正、Ⅲ＝正
 キ Ⅰ＝誤、Ⅱ＝正、Ⅲ＝誤 ク Ⅰ＝誤、Ⅱ＝誤、Ⅲ＝誤

- (4) 地図中D国について説明した文として適当なものを、ア～エから一つ選び、その記号を書け。
- ア 現在まで、白豪主義とよばれる政策によって、ヨーロッパからの移民を中心に国づくりが進められた。
 - イ マオリとよばれる先住民がおり、祖先はユーラシア大陸からわたってきたと考えられている。
 - ウ 内陸部は降水がみられるが、沿岸部は乾燥しており、農業はほとんど行われていない。
 - エ 近年では、アジアや太平洋諸国との貿易が増え、現在では中国が最大の貿易相手国になっている。

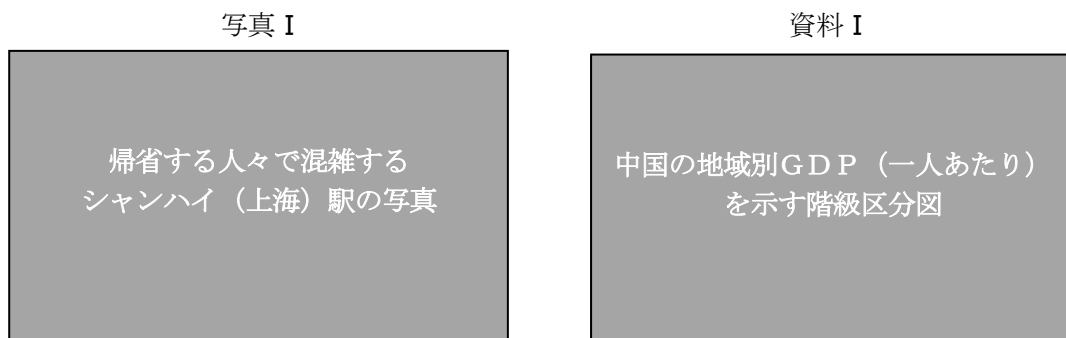
- 2 下の写真はアマゾン川流域の衛星写真である。写真を見て、(1)・(2)の問いに答えよ。



- (1) 写真にみられる、白く写っている部分は主に何か二つ書け。
- (2) アマゾン川流域について正しく説明した文の組み合わせとして適当なものを、ア～エから一つ選び、その記号を書け。
- a 夏の気温が高いため、針葉樹からなるタイガとよばれる広大な森林を伐採している。
 - b 森林を切りたおして焼きはらい、牧場やさとうきび畑などを造り大規模な開発を進めている。
 - c 品種の改良や土地の改良などを行った結果、世界有数の大豆の生産国となった。
 - d モンスーンの影響で降水量が多く、稲作が盛んで二期作ができる。

ア a , c イ a , d ウ b , c エ b , d

- 3 下の写真Iは、帰省する人々で混雑するシャンハイ駅を写したものである。なぜ、シャンハイ駅に人々が集まっているのか、資料Iの一人あたりの地域別GDPに触れながら沿岸部・内陸部の二つの言葉を必ず用いて理由を書け。



(「中国統計年鑑」2017年版他)

- 4 北極圏の北緯 66.6 度より北側では、夏至の期間に下の写真のような現象が起こる。この現象を何というか書け。

